

广东省事业单位 2021 年集中公开招聘高校应届毕业生笔试真题

(考生回忆)

注意事项

1、请在答题前按要求在答题卡指定位置填写(涂)自己的姓名,准考证号,在题本上写上自己的姓名和准考证号。

2、必须用 2B 铅笔在答题卡上作答,在题本上作答一律无效,填涂答案时一定要认准题号,填涂清楚,严禁折叠答题卡。

3、本套试题全是客观题,共 100 题,满分 100 分,答题时限 90 分钟。

一、判断题共 20 题

1、组织路线是我们党的生命线跟根本工作路线,是我们党永葆青春活力和战斗力的重要传家宝 ()

A. 正确

B. 错误

【答案】B

【解析】我们党的生命线跟根本工作路线应该是群众路线,故表述错误。

2. 全面建成小康社会,全面深化改革,全面依法治国,全面从严治党,“四个全面”战略布局,既有战略目标,又有战略举措。()

A. 正确

B. 错误

【答案】A

【解析】四个全面指的是全面建成小康社会,全面深化改革,全面依法治国,全面从严治党,2020 年全面建成小康社会完成后,我们党的理论更新,把全面建成小康社会调整为全面建设社会主义现代化国家,这是我们党对不同时期的战略目标的阐述,但是更新的理论不代表以前的理论是错误的或者不对的,比如,我们十九大报告中对社会主要矛盾表述有所调整,但是这不影响以前的主要矛盾的表述是正确的,是对我国国情的正确认识。假如题干所说的是 2020 年以后我们的四个全面是,那就应该用最新的理论。而题干中所说的四个全面之间的关系,那么理论的更新并不影响他们的关系,所以表述正确。

3. 产业兴旺,生态宜居,乡风文明,治理有效,生活富裕是乡村振兴战略的总要求 ()

A. 正确

B. 错误

【答案】A

【解析】党的十九大报告提出：“要按照产业兴旺、生态宜居、乡风文明、治理有效、生活富裕的总要求，建立健全城乡融合发展体制机制和政策体系，加快推进农业农村现代化。”这是对乡村振兴的集中论述，包括了经济、政治、文化、社会 and 生态的振兴，是“五位一体”总体布局在农业农村的具体体现，故正确。

4. 党的十九大报告指出，要强化自上而下的民主监督，改进自下而上的组织监督，发挥同级相互监督作用，加强对党员领导干部的日常管理监督（）

A. 正确

B. 错误

【答案】B

【解析】自上而下的组织监督，改进自下而上的民主监督

5. 为人民而生，因人民而兴，始终同人民一起，为人民利益而奋斗，是我们党兴党强党的根本出发点和落脚点（）

A. 正确

B. 错误

【答案】A

【解析】习近平总书记强调：“人民就是江山，共产党打江山、守江山，守的是人民的心，为的是让人民过上好日子。”为人民而生，因人民而兴，始终同人民在一起，为人民利益而奋斗，是我们党兴党强党的根本出发点和落脚点。始终坚持人民至上、紧紧依靠人民、不断造福人民、牢牢植根人民，把亿万人民团结凝聚起来，万众一心向前进，我们就能不断从胜利走向新的胜利。

6. 经过全党全国各族人民持续奋斗，我国实现了第一个百年奋斗目标，在中华大地上全面建成小康社会，历史性地解决了相对贫困问题（）

A. 正确

B. 错误

【答案】B

【解析】习总书记指出：经过全党全国各族人民持续奋斗，我们实现了第一个百年奋斗目标，在中华大地上全面建成了小康社会，历史性地解决了绝对贫困问题，正在意气风发向着全面建成社会主义现代化强国的第二个百年奋斗目标迈进。应该是绝对贫困，不是相对贫困，解决相对贫困还有很长的路要走，故错误。

7. 劳模精神，劳动精神、工匠精神是以爱国主义为核心的民族精神的生动体现（）

A. 正确

B. 错误

【答案】B

【解析】劳模精神，劳动精神、工匠精神是以爱国主义为核心的民族精神和以改革创新为核心的时代精神的生动体现”。

8. 农民阶级是我国的领导阶级，是先进生产力跟生产…的代表，是保持和发展中国特色社会主义的主力军（）

A. 正确

B. 错误

【答案】B

【解析】工人阶级是我国的领导阶级，故错误。

9. 1942 年延安整风运动的方针是“长期共存，互相监督”。（）

A. 正确

B. 错误

【答案】B

【解析】1941 年至 1942 年，毛泽东在延安先后作了《改造我们的学习》、《整顿党的作风》和《反对党八股》的报告。从 1942 年春开始，在全党范围内进行了普遍的整风运动。整风运动的内容是：反对主观主义以整顿学风；反对宗派主义以整顿党风；反对党八股以整顿文风。整风运动的方针是“惩前毖后治病救人”，故错误。

10. 体育是提高人民健康水平的重要途径，是满足人民群众对美好生活向往、促进人的全面发展的重要手段。（）

A. 正确

B. 错误

【答案】A

【解析】习近平总书记指出：体育承载着国家强盛、民族振兴的梦想。体育强则中国强，国运兴则体育兴。加快建设体育强国，就要坚持以人民为中心的思想，把人民作为发展体育事业的主体，把满足人民健身需求、促进人的全面发展作为体育工作的出发点和落脚点，落实全民健身国家战略，不断提高人民健康水平。

11. 进一步优化生育政策，实现三孩的政策及配套支持措施，是落实积极应对人口老龄化国家战略的重要措施。（）

A. 正确

B. 错误

【答案】A

【解析】中共中央政治局5月31日召开会议，会议指出，进一步优化生育政策，实施一对夫妻可以生育三个子女政策及配套支持措施，有利于改善我国人口结构、落实积极应对人口老龄化国家战略、保持我国人力资源禀赋优势，故正确。

12. 历史唯物主义是中国共产党人的世界观和方法论。（）

A. 正确

B. 错误

【答案】B

【解析】辩证唯物主义是中国共产党人的世界观和方法论。

13. 根据《中华人民共和国宪法》，公民有进行科学研究，文化艺术创作和其他文化活动的自由。（）

A. 正确

B. 错误

【答案】A

【解析】宪法第四十七条 中华人民共和国公民有进行科学研究、文学艺术创作和其他文化活动的自由。故正确

14. 根据中华人民共和国选举法，代替他人填写选票的行为无效，要依法给予行政处分或刑事处罚。（）

A. 正确

B. 错误

【答案】B

【解析】我国选举法以专章规定，对下列哪些违法行为依法给予行政处分或刑事处罚：1. 用暴力、威胁、欺骗、贿赂等非法手段破坏选举或者妨碍选民自由行使选举权和被选举权的。2. 伪造选举文件，虚报选票数或有其他违法行为的。3. 对于控告、检举选举中违法行为的人，或者对于提出要求罢免代表的人进行压制、报复的。按照我国法律无法书写等特殊情况下可以让别人代写，故错误。

15. 张某、李某、王某合作投资了一家有限责任公司。一年后，因经营不善，公司申请破产后，债权人要求三人按投资比例对债务当场承担偿还责任。（）

A. 正确

B. 错误

【答案】B

【解析】有限责任公司股东承担有限责任，法人独立承担责任。

16. 李某乘坐飞机时将电脑遗失，电脑被邻座乘客王某捡到。王某主动归还李某电脑，但要求李某支付 50 元快递费。王某的行为不符合法律规定。（）

A. 正确

B. 错误

【答案】B

【解析】王某并无帮李某管理电脑的义务，自愿为之属于无因管理，无因管理应付必要费用应该支付，快递费属于必要费用，所以李某应当支付费用。

17. 举重比赛中，运动员上场之前在手上抹些白色粉末，其作用是增大大手与被握住物体的摩擦力，减少失误。

A. 正确

B. 错误

【答案】A

【解析】体操运动员在上单杠之前，在手上抹些镁粉，学名叫“碳酸镁”，人们通常又称之为“镁粉”。碳酸镁质量很轻，具有很强的吸湿作用。运动员在比赛时，手掌心常会冒汗，这对体操和举重运动员来说非常不利。因为湿滑的掌心会使摩擦力减小，使得运动员握不住器械，不仅影响动作的质量，严重时还会使运动员从器械上跌落下来，造成失误，甚至受伤。碳酸镁能吸去掌心汗水，同时还会增加掌心与器械之间的摩擦力。这样，运动员就能握紧器械，有利于提高动作的质量。

18. 大明律是唐代行政法典，也是我国现存的最早的行政法典。（）

A. 正确

B. 错误

【答案】B

【解析】大明律是明朝的

19. 一般认为，甲骨文是目前可考证的中国最早的汉字。（）

A. 正确

B. 错误

【答案】A

【解析】甲骨文是商朝时期使用的文字，是我国可考最早文字。

20. 根据国家有关规定，免征车辆购置税的新能源汽车是指纯电动汽车，插电混合动力（含增程式汽车）燃料电池汽车。（）

A. 正确

B. 错误

【答案】A

【解析】国家财政部为支持新能源汽车产业发展，促进汽车消费，财政部、税务总局、工业和信息化部日前联合发布公告，明确新能源汽车免征车辆购置税有关政策。自 2021 年 1 月 1 日至 2022 年 12 月 31 日，对购置的新能源汽车免征车辆购置税。免征车辆购置税的新能源汽车是指纯电动汽车、插电式混合动力(含增程式)汽车、燃料电池汽车。免征车辆购置税的新能源汽车，通过工业和信息化部、税务总局发布《免征车辆购置税的新能源汽车车型目录》实施管理。自目录发布之日起，购置列入目录的新能源汽车免征车辆购置税；购置时间为机动车销售统一发票(或有效凭证)上注明的日期。

二、多项选择题共 10 题

21. 在中国共产党的历史上，遵义会议是一次具有伟大转折意义的重要会议。下面关于遵义会议说法正确的有（）。

- A. 在红军第五次围剿失败和长征初期严重受挫的历史关头召开。
- B. 开启了中国共产党独立自主解决中国革命实际问题的新阶段。
- C. 确立了以毛泽东为主要代表的马克思主义正确路线，在党中央的领导地位。
- D. 标志着中国共产党创建人民军队和武装夺取政权的开端。

【答案】ABC

【解析】遵义会议内容：

(1) 张闻天起草《中央关于反对敌人五次“围剿”的总结的决议》，决定由毛泽东、周恩来负责军事工作。肯定了毛泽东等关于红军作战的基本原则，否定了以博古、李德等人在军事问题上的一系列错误主张。结束了王明“左”倾冒险主义在党中央的统治，增选毛泽东为中央政治局常委，确立毛泽东在党和红军中的实际领导地位，以毛泽东为代表的新的中央的正确领导开始确立。(2) 中国共产党第一次独立自主地运用马克思列宁主义原理解决中国革命问题。(3) 中国共产党从幼年走向成熟的标志。标志着中国共产党创建人民军队和武装夺取政权的开端应该是南昌起义，故 D 不选。

22. 十三五时期，广东省实施一系列重大发展战略和举措，加快形成全面开放新格局。这一时期，广东在加快形成全面开放新格局方面取得的成就有（）。

- A、数字政府改革走在全国前列。
- B、广东自贸试验区累计行程 500 余项制度创新成果。
- C、跨境电商出口实现快速增长。
- D、对一带一路沿线国家进出口总额累计达 7.9 万亿元。

【答案】ABCD

【解析】广东省政府 2021 年工作报告中总结了十三五规划，报告指出，大力开展“数字政府”改革，推进数据共享、流程再造、管理创新，推出“粤省事”“粤商通”“粤政易”系列品牌，高频服务事项基本实现“指尖办理”，网上政务服务能力跃居全国首位。广东自贸试验区形成

527 项制度创新成果，实现国际贸易“单一窗口”全覆盖，跨境电商、市场采购贸易等新业态快速壮大。“十三五”时期，全省对“一带一路”沿线国家进出口总额累计达 7.9 万亿元，年均增长 7.5%，故全选。

23、党的 19 届四中全会着重研究坚持和完善中国特色社会主义制度，推进国家治理体系和治理能力现代化的重大问题。会议确定了坚持和完善中国特色社会主义制度，推进国家治理体系和治理能力现代化的总体目标。这一总体目标是（）。

- A、到我们党成立一百年时，在各方面制度更加成熟更加定型上取得明显成效
- B、到 2055 年，中国特色社会主义制度更加巩固、优越性充分展现
- C、到新中国成立 100 年时，全面实现国家治理体系和治理能力现代化
- D、到 2035 年，各方面制度更加完善，基本实现国家治理体系和治理能力现代化

【答案】ACD

【解析】十九届四中全会提出坚持和完善中国特色社会主义制度、推进国家治理体系和治理能力现代化的总体目标是

- (1) 到我们党成立一百年时，在各方面制度更加成熟更加定型上取得明显成效；
- (2) 到 2035 年，各方面制度更加完善，基本实现国家治理体系和治理能力现代化；
- (3) 到新中国成立一百年时，全面实现国家治理体系和治理能力现代化，使中国特色社会主义制度更加巩固、优越性充分展现。B 选项时间表述错误，故不选，其他表述正确，选 ACD。

24. 习近平总书记在党的十九大报告中提出“实施健康中国战略”，要完善国民健康政策，为人民群众提供全方位全周期健康服务。下列与之有关的措施和做法，正确的有（）。

- A. 全面取消以药养医
- B. 坚持中西医并重
- C. 推进医养结合
- D. 支持社会办医

【答案】ABCD

【解析】十九大报告指出，要完善国民健康政策，为人民群众提供全方位全周期健康服务。深化医药卫生体制改革，全面建立中国特色基本医疗卫生制度、医疗保障制度和优质高效的医疗卫生服务体系，健全现代医院管理制度。加强基层医疗卫生服务体系和全科医生队伍建设。全面取消以药养医，健全药品供应保障制度。坚持预防为主，深入开展爱国卫生运动，倡导健康文明生活方式，预防控制重大疾病。实施食品安全战略，让人民吃得放心。坚持中西医并重，传承发展中医药事业。支持社会办医，发展健康产业。促进生育政策和相关经济社会政策配套衔接，加强人口发展战略研究。积极应对人口老龄化，构建养老、孝老、敬老政策体系和社会环境，推进医养结合，加快老龄事业和产业发展。故全选。

25. 根据《中华人民共和国宪法》，下列说法正确的有（）。

- A. 国家军事委员会决定战争和和平的问题

- B、城市、农村和城市郊区的土地均属于国家所有
- C. 县级以上的地方各级人民代表大会设立常务委员会
- D. 国家鼓励社会力量依照法律规定举办各种教育事业

【答案】CD

【解析】国家军事委员会领导军队，但是决定战争和和平的问题应由人大或人常决定，故 A 错。按照宪法，城市土地归国家，农村土地归集体，郊区的土地除非有法律规定才归国家否则归集体，故 B 错误。宪法规定县级以上的地方各级人民代表大会设立常务委员会，乡镇只有人大不设常委会，C 正确。国家鼓励社会力量依照法律规定举办各种教育事业，D 正确。

26. 国债，又称国家公债，是国家以其信用为基础，按照债券的一般原则，通过向社会筹集资金所形成的债权债务关系。下面关于国债的描述正确的有（ ）。

- A. 发行主体是国家
- B. 债务人一般只能是国家
- C. 债权人只能是本国公民
- D. 具有最高的信用度，被公认为是最安全的投资工具

【答案】ABD

【解析】国债，又称国家公债，是国家以其信用为基础，按照债的一般原则，通过向社会筹集资金所形成的债权债务关系。国债是由国家发行的债券，是中央政府为筹集财政资金而发行的一种政府债券，是中央政府向投资者出具的、承诺在一定时期支付利息和到期偿还本金的债权债务凭证，由于国债的发行主体是国家，所以它具有最高的信用度，被公认为是最安全的投资工具，所以 ABD 正确。债权人也可以是外国政府，比如中国购买美国国债，故 C 错误。

27. 贸易差额可以表明国家对外贸易的收支状况，影响一国贸易差额的因素包括（ ）。

- A. 汇率
- B. 商品价格
- C. 贸易协定
- D. 贸易壁垒

【答案】ABCD

【解析】贸易差额(Balance of Trade)是指一定时期内一国出口总额与进口总额之间的差额，用以表明一国对外贸易的收支状况。影响一国贸易差额的因素有：

1、本国商品和外国商品的价格。2、汇率。3、贸易协定。4、贸易壁垒。5、本国和外国的景气循环。(又称经济波动，也称经济周期，指的是经济景气状况呈周期性循环变动的情况。)故全选。

28. 借代是古诗词中常用的修辞手法之一，下列诗句中借代解释正确的有（ ）。

- A. “丧车黔首葬，吊客青羌至”中的“黔首”指的是部族首领
- B. “欲寄彩笺兼尺素，山长水阔知何处”中的“尺素”指的是书信

- C, “朱门酒肉臭, 路有冻死骨”中的“朱门”指的是显贵之家
D, “主人下马客在船, 举酒欲饮无管弦”中的“管弦”指的是音乐

【答案】BCD

【解析】“黔首”是中国战国时期和秦代对平民的称呼。秦始皇时期开始作为官方辞令使用, 并非指领袖, 故错误。

29. 下列关于中国传统戏曲的说法正确的有 ()。

- A. 豫剧属于我国五大戏曲剧种之一
B. 《霸王别姬》是一出经典的昆曲曲目
C. 京剧中银色的脸谱多表现的是一些鬼怪或者神仙
D. 粤剧充分体现了广府民系群落的地域文化传统

【答案】ACD

【解析】评剧与京剧、豫剧、越剧、黄梅戏被并成为中国戏曲五大戏曲剧种, 都是有名的地方戏曲, 都是在各个地方有着非常大的名气并且有着很高的代表性, 故 A 正确。《霸王别姬》是一出京剧的经典剧目, 故 B 错误。京剧脸谱是常考的考点, 一般神仙鬼怪用金银色。戏曲家翁偶虹曾经总结过一个顺口溜, 是对脸谱颜色的说明: 红忠紫孝, 黑正粉老。水白奸邪, 油白狂傲。黄狠灰贪, 蓝勇绿暴。神佛精灵, 金银普照, 故 C 正确。粤剧广泛吸收广东音乐、广绣、牙雕、陶瓷、灰塑等地方艺术形式, 充分体现了广府民系群落的地域文化传统, 故 D 正确。

30. 下列关于自然天气的说法, 错误的有 ()。

- A. 我国沿海地区每年冬春之交常出现台风天气
B. 龙卷风常发生在寒带和亚热带地区
C. 要形成冰雹雨, 云内必须含水量丰富
D. 冻雨是雨滴和温度低于零度的物体碰撞立即冻结的降水

【答案】AB

【解析】我国沿海地区每年夏天常出现台风, 故 A 错误。天气寒带和赤道附近地区从未出现过龙卷风, 故 B 错误。水量丰富是形成降雨的必要因素, 故 C 正确。冻雨是由过冷水滴组成、与温度低于 0°C 的物体碰撞立即冻结的降水, 低于 0°C 的雨滴在温度略低于 0°C 的空气中能够保持过冷状态, 其外观同一般雨滴相同, 当它落到温度为 0°C 以下的物体上时, 立刻冻结成外表光滑而透明的冰层, 称为“雨凇”, 故 D 正确。

三、单项选择题共 70 题

每题只有 1 个答案是最恰当的, 请将其选出, 并在答题卡上将对应题号的字母涂黑。

（一）常识应用共 10 题

要求你运用基本常识进行分析判断，从 4 个备选项中选出最符合题干要求的 1 项。

31. 习近平总书记在庆祝中国共产党成立 100 周年大会上强调，必须坚持和发展中国特色社会主义。下列有关中国特色社会主义的说法，正确的有（ ）。

- ①中国特色社会主义是党和人民历经千辛万苦、付出巨大代价取得的根本成就
- ②中国特色社会主义是实现中华民族伟大复兴的正确道路
- ③中国特色社会主义为什么好，归根到底是因为马克思主义行
- ④新时代坚持和发展中国特色社会主义要始终确保党的坚强领导核心

- A. ①④
- B. ①②④
- C. ②③④
- D. ①②③④

【答案】D

【解析】习近平总书记在讲话中指出，中国特色社会主义是党和人民历经千辛万苦、付出巨大代价取得的根本成就，是实现中华民族伟大复兴的正确道路。我们坚持和发展中国特色社会主义，中国共产党为什么能，中国特色社会主义为什么好，归根到底是因为马克思主义行！史为鉴、开创未来，必须坚持中国共产党坚强领导。办好中国的事情，关键在党。中华民族近代以来 180 多年的历史、中国共产党成立以来 100 年的历史、中华人民共和国成立以来 70 多年的历史都充分证明，没有中国共产党，就没有新中国，就没有中华民族伟大复兴。历史和人民选择了中国共产党。故都正确

32. 习近平总书记曾说过：“缺氧不缺精神、艰苦不怕吃苦、海拔高境界更高。”这句话中提到的“精神”具体指的是（ ）。

- A. 长征精神
- B. 老西藏精神
- C. 井冈山精神
- D. 西柏坡精神

【答案】B

【解析】“老西藏精神”就是“特别能吃苦、特别能战斗、特别能忍耐、特别能团结、特别能奉献”的精神。2020 年 8 月 28 日至 29 日，中央第七次西藏工作座谈会在北京召开。习近平总书记在讲话中强调：“广大干部特别是西藏干部要发扬‘老西藏精神’，缺氧不缺精神、艰苦不怕吃苦、海拔高境界更高，在工作中不断增强责任感、使命感，增强能力、锤炼作风。”总书记的话为“老西藏精神”增添了新色彩。

33. 党的十九大报告指出，中国特色社会主义进入新时代，我国社会主要矛盾已经从人民日益增长的物质文化需要同落后的社会生产力之间的矛盾，转化为人民日益增长的美好生活需要和不平衡不充分的发展之间的矛盾。这表明（）。

- A. 社会主要矛盾的存在和发展，影响着社会非主要矛盾的存在和发展
- B. 社会主要矛盾和非主要矛盾相互作用，在一定条件下相互转化
- C. 社会主要矛盾不是一成不变的，在一定条件下会发生变化
- D. 社会主要矛盾是其他一切社会矛盾的根源

【答案】C

【解析】题干中提到的是我国主要矛盾的转变，并未涉及到影响及主次矛盾转化的问题。

34. 广大政协委员、政协各参加单位和各专门委员会围绕党和国家中心任务和人民群众在通关心生的民生问题，特别是医尧贯彻新发展理念您问题，建出米列建议。这体现的人民政协的主要职能是（）。

- A. 发扬社会主义民主
- B. 管理国家事务
- C. 民主监督
- D. 参政议政

【答案】D

【解析】民主监督、参政议政都是政协的职能，政协没有管理国家的权限，政协就民生问题提建议，属于参政议政，民主监督是对国家机关的工作进行监督。

35. 毛泽东思想是马克思列宁主义基本原理和中国革命具体实际相结合的产物。是中国共产党人集体智慧的结晶，将其确立为中国共产党的指守思想的会议（）。

- A. 古田会议
- B. 党的七大
- C. 党的六届七中全会
- D. 党的十一届六中全会

【答案】B

【解析】七大通过的新党章指出：“毛泽东思想，就是马克思列宁主义的理论与中国革命的实践之统一的思想，就是中国的共产主义，中国的马克思主义。”党章规定：中国共产党以马克思列宁主义的理论与中国革命的实践之统一的思想——毛泽东思想，作为自己一切工作的指导方针，反对任何教条主义的或经验主义的偏向。刘少奇在七大《关于修改党章的报告》中深入论述了毛泽东和毛泽东思想在中国革命中的地位和作用，对毛泽东思想作了较为全面、系统和科学的概括，揭示了毛泽东思想的丰富内涵和本质特征，使全党对毛泽东思想有了比较完整的认识和深刻的理解。

36. 下列选项体现了绿色发展理念的是（ ）。

- ①万物各得其和以生
- ②子钓而不纲，弋不射宿
- ③甘瓜抱苦蒂，美枣生荆棘
- ④太山之高。背而弗见
- ⑤草木荣华滋硕之时，则斧斤不入山林

- A. ②③
- B. ①②⑤
- C. ②③④
- D. ①②④⑤

【答案】B

【解析】万物各得其和以生强调和谐共生的理论，体现了绿色发展理念。

“甘瓜抱苦蒂，美枣生荆棘”出自汉代无名氏《古诗》“甘瓜抱苦蒂，美枣生荆棘。利旁有倚刀，贪人还自贼。”意思是香甜的瓜果长在苦涩的根蒂上，甜美的红枣生在满是刺儿的树枝上。“甘瓜苦蒂”现已成为一则俗语，用甜瓜之蒂味苦，说明任何事物都不会十全十美，没有体现绿色发展理念。

“子钓而不纲，弋不射宿”的意思是孔子只用鱼竿钓鱼，而不用大网来捕鱼；用带的箭射鸟，但不射归巢栖息的鸟。这样做是在告诉人们要对动物心存仁爱，不可滥捕滥杀，影响到鱼类的正常繁衍。儒家学说重视天人关系，主张万物和谐共存，故正确。

“太山之高。背而弗见”，指的是像泰山一样高大的事物，如果不去主动接触、观察，也就发现不了它；但如果仔细地观察、了解世界，那么，即使像秋毫之末一样细微的事物也会清楚地认识它。可见人的认识也具有相对性。

“草木荣华滋硕之时，则斧斤不入山林”的意思是草木开花之时，不能进山林砍伐，断绝它们的生长。出自于《荀子·王制》主要是讲环境保护，体现了绿色发展理念。所以选B。

37. 为推动对外贸易高质量发展，广东省大力实施粤港澳大湾区国际消费枢纽工程：加快推进国际消费中心城市，下列做法中，有利于促进该工程取得成效的是（ ）。

- ①大力发展首店经济、品牌经济
- ②建设全国一体化大数据中心体系
- ③建设一批口岸免税店和市内免税店
- ④打造一批具有国际影响力的新型消费商圈

- A. ①②③
- B. ①②④
- C. ①③④
- D. ①②③④

【答案】C

【解析】政府印发《全国一体化大数据中心协同创新体系算力枢纽实施方案》建设全国一体化大数据中心体系，加强全国一体化大数据中心顶层设计。优化数据中心基础设施建设布局，

加快实现数据中心集约化、规模化、绿色化发展，形成“数网”体系；加快建立完善云资源接入和一体化调度机制，降低算力使用成本和门槛，形成“数组”体系；加强跨部门、跨区域、跨层级的数据流通与治理，打造数字供应链，形成“数链”体系；深化大数据在社会治理与公共服务、金融、能源、交通、商贸、工业制造、教育、医疗、文化旅游、农业、科研、空间、生物等领域协同创新，繁荣各行业数据智能应用，形成“数脑”体系；加快提升大数据安全水平，强化对算力和数据资源的安全防护，形成“数盾”体系。所以这个一体化所带来的管理上的方便，引领的全方面各领域的协调发展，不是专门针对刺激消费的，故选 C

38. 人身安全保护令是一种民事强制措施，是人民法院为了保护家庭暴力受害人及其子女和特定亲属的人身安全、确保婚姻案件诉讼程序的正常进行而作出的民事裁定。下列情形中，可向法院申请人身安全保护令的是（ ）。

- A. 小学生小明与徐某是母女，因小明的家庭作业错误较多，徐某打了小明巴掌，为此小明到派出所报警
- B. 曾某和谢某是邻居。因工作上的纠纷，曾某常在同事面前诋毁谢某林某
- C. 陈某和林某是邻居，因不满林某经常将垃圾堆放在门口，陈某经常谩骂某
- D. 王某和李某是夫妻，因王某向法院提起离婚诉讼，李某经常恐吓威胁王某

【答案】D

【解析】人身安全保护令，法律术语为人身安全保护裁定，是一种民事强制措施，即法院为了保护家庭暴力受害人及其子女和特定亲属的人身安全、确保婚姻案件诉讼程序的正常进行而作出的民事裁定。家庭暴力简称家暴，是指发生在家庭成员之间的，以殴打、捆绑、禁闭、残害或者其它手段对家庭成员从身体、心理等方面进行伤害和摧残的行为。家庭暴力发生于有血缘、婚姻、收养关系生活在一起的家庭成员间。父母对子女或者对自己的亲兄弟姐妹施暴也是家庭暴力。家庭暴力直接作用于受害者身体或精神，使受害者身体上或心理上感到痛苦，损害其身体健康和人格尊严。BC 同事邻居之间的矛盾不属于家暴的范畴，故不选。A 选项属于体罚孩子，不属于家暴，如果程度较重或长期进行有可能构成家暴，故不选。家暴不仅仅保护身体也保护精神心理，经常威胁恐吓已经构成家暴，故选 D。

39. 我国古代很多写广东风物的是文学作品描写了广东地区的风土人情。以下诗句不属于描写（ ）。

- A. 海对羊城间，山连象郡高
- B. 日味藕丝三百段，不静长作岭南人
- C. 连天浪静长触息，脱目就多室的米
- D. 孤帆远影碧空尽，唯见长江天尽头

【答案】D

【解析】广东地处岭南，又称羊城，特产荔枝，省内主要水系为珠江，不属于长江流域，故选 D。

40. 以下关于我国传统建筑的描述与建筑名称对应不正确的是（ ）。

- A. 一种开敞的小型建筑，平面教有圆形、方形，六角形等，常设在园林或风景名胜等处一亭
- B. 高面平的建筑物一台
- C. 两层以上的房屋或建筑物的上层部分或有上层结构的一 楼
- D. 底部架空的高层建筑，通常四周设隔扇或栏杆回离，供远院，游憩、藏书和供佛之用一榭

【答案】D

【解析】榭是一种借助于周围景色而长见的园林休憩建筑。也意为建在高土台或水面(或临水)上的木屋。“榭”是中国园林建筑中依水架起的观景平台，平台一部分架在岸上，一部分伸入水中。

(二) 选词填空共 5 题

41. 深圳的 40 年是中国经济特区建设的个组影，也是无数党员与人民群众努力的成果，()。每个人的一小步都是建设成功的关键。

- A. 厚积薄发
- B. 积羽沉舟
- C. 万众一心
- D. 聚沙成塔

【答案】C

【解析】题干中所回顾的是深圳 40 年的发展成果，所强调的是无数党员和人民群众努力的成果，那么这个成果是大家一起努力的成果，所以这里强强调的是大家一起团结一致。厚积薄发，积雨成舟，聚沙成塔，他们所强调的就是积少成多的意思，万众一心，所强调的就是团结一致，共同努力，所以答案应该选的是万众一心，故选 C。

42. 些技术能力不强、人才储备不足。管理水平不高的制造企业，不注重强根基。反而头脑一热，扎进智能科技的大潮中，投资不小却 ()，这类走偏的发展倾向须警国。

- A. 事倍功半
- B. 收效甚微
- C. 得不偿失
- D. 于事无补

【答案】B

【解析】题干所述的是根基不牢光靠资金投入效果有限，所以需要填入一个效果有限的词语。得不偿失意思是所得的利益抵偿不了所受的损失，题干未提及损失的问题，故不选。于事无补意思是指对事情没有什么益处，常用来表示所做之事对真正需要完成的事情没有帮助，题干只是说效果不大，而不是全无效果。事倍功半指的是花费的气力大，收到的成效小。题干未凸显花费大力气，故不选。收效甚微指的是效果不明显，未到达预期要求，当选。

43. 中国古代寓言是一座丰富的文学宝库，（）了中国人的智慧和思考，短小精悍，却（）。让人百读不厌。

- A. 包含 耐人寻味
- B. 彰显 微言大义
- C. 承载 意味深长
- D. 囊括 言简意赅

【答案】C

【解析】第一个空想表达的是古代寓言是显示了中国人的智慧和思考的优秀品质，.囊括意思是全部包罗在里面，也泛指包含了一切事物，收容量很大的行为、动作、物体；，包括也是强调包罗的意思，与文意不符。彰显与承载都可以搭配。

微言大义，微言是精当而含义深远的话；大义是本指经书的要义，后指大道理。侧重语言简单精练但很有深意，有很深刻的道理。意味深长，指的是含蓄深远，耐人寻味。寓言故事本身是用比喻性的故事来寄托意味深长的道理，给人以启示的文学体裁，故用意味深长会更合适，选C。

44. 实体书店最红火的年代，恰恰也是信息相对（）的年代，人们接收的信息大多都来自书本。而在信息爆炸的今天，人们阅读和接收信息的方式发生了（）的改变。所以，我们不能要求书店也必须保持“传统”的味道，还停留在记忆中的样子。

- A. 封闭 翻天覆地
- B. 单调 参差不齐
- C. 阻塞 猝不及防
- D. 匮乏 前所未有

【答案】D

【解析】通过后文所说的今天的信息爆炸，可以推知是通过前后时间段对比强调的如今信息的多，所以前一个空应该强调的是信息的少，而不是封闭，故应该选匮乏，验证好于一个空前所未有也可形容变化巨大，故选D。

45. 在网络空间中，消费信息（），成为新的“信息污染”，流量造假、夸大宣传等大量存在，（）商业规则，（）电商平台的良性发展。

- A. 林林总总 冲击 约束
- B. 纷繁芜杂 挑战 制约
- C. 琳琅满目 动摇 掣肘
- D. 五花八门 打破 限制

【答案】B

【解析】林林总总形容杂乱众多。形容人或事物众多，尤其是可强调种类多；

纷繁芜杂，是指多而杂乱，没有条理，形容文章内容芜杂，没有条理，或者是事情杂乱无章，没有头绪；琳琅满目比喻面前美好的东西很多，不合适；五花八门原指“五花阵”与“八门阵”，五花八门这是古代兵法中的阵名，后又把它用作比喻各行各业的暗语。意思是比喻事物繁多，变化莫测，不合适。

结合题干所说成信息为新的“信息污染”，流量造假、夸大宣传等问题存在，说明其想表达的是信息多且杂的意思，所以选纷繁芜杂比较合适。挑战规则，制约发展搭配恰当，故选B。

（三）阅读理解共5题

每道题给出一段短文，短文后面有一个不完整的陈述，要求你从4个备选项中选出最符合题干要求的1项。

46. 马克思、恩格斯把无产阶级组织成为独立政党作为无产阶级革命的首要条件，强调无产阶级政党必须成为一个统一的整体，必须由最彻底、最坚定的先进分子组成。列宁说：“无产阶级在争取政权的斗争中，除了组织，没有别的武器。”毛泽东同志指出：“一个政党要引导革命到胜利，必须依靠自己政治路线的正确和组织上的巩固。”邓小平同志强调，实现四个现代化，“要有正确的组织路线来保证”。这段文字意在强调组织建设（）。

- A. 需要经历长期探索
- B. 是革命胜利的关键
- C. 是党的建设的重要基础
- D. 要以队伍建设为中心

【答案】B

【解析】题干为总-分结构，首句提出无产阶级组织对无产阶级革命的重要作用；后根据列宁强调可以作为阶级斗争唯一武器；毛泽东同志强调组织作为革命胜利的关键；邓小平同志强调，组织作为实现四个现代化的关键共同论证了这个观点，即组织对革命的重要性，故选B。

47. 从神经心理学和神经语言学的研究成果看，拼音文字是偏向大脑左半球的“单脑文字”，而汉字是大脑左、右两半球并用的“复脑文字”；拼音文字认知中“语音编码”方式起主要作用，而汉字认知中则是利用“多重编码”方式，语音、字形和语义编码兼用。由此可见，学习汉字可以开发大脑左、右半球的潜力。

这段文字意在说明（）。

- A. 汉字学习与大脑半球机能的关系
- B. 汉字学习有利于大脑的发展
- C. 拼音和汉字认知中的不同编码方式

D. 拼音和汉字在大脑中的存储位置不同

【答案】B

【解析】文章为分总结构，最后一句话“由此可见”总结了文章的核心是在于表达学习汉字可以开发大脑左、右半球的潜力比拼音文字更加有利，故选 B。

48. ①但这种普遍现象，却往往成为人们在工作中的一大难题，这是由于错误共识效应在起作用。

②错误共识效应使人们陷入过度的自我保护与精神亢奋之中，当别人提出不同观点时，不进行客观思考，而是用神态语言等各种表现证明对方是错的。

③由此看来，意见不合是一种十分普通而广泛的现象。

④“横看成岭侧成峰，远近高低各不同”，没有人会拥有 360 度的广角视角，而不同的视角会造就不同的观点，分歧产生在所难免。

⑤所谓错误共识效应，就是指人们通常倾向于将自己的观点投射给他人，认为所有人都应当和自己以同一方式思考得出同样结论。

将以上 5 个句子重新排列，语序正确的是（ ）。

A. ④③①②⑤

B. ④③①⑤②

C. ⑤②③④①

D. ③①⑤④②

【答案】B

【解析】①引出错误意识的概念，⑤则进行了比较专业的解释，所以⑤应该在①之后，不适合作为起始句，排除 C；③由此看来，一般作为结论不适合作为起始句，排除③；②述说的是错误共识所带来的危害，应当位于对错误共识的专业解释之后，故选 B 比较合适。

49. 我国要坚决贯彻预防为主的卫生与健康工作方针，坚持常备不懈，将预防关口前移，避免小病酿成大疫。要强化风险意识，完善公共卫生重大风险研判、评估、决策、防控、协同机制。作者最可能同意的是（ ）。

A. 我国应改革完善疾病预防控制体系

B. 我国应强化公共卫生法制保障

C. 我国应健全统一的应急物资保障体系

D. 我国公共卫生存在的短板

【答案】A

【解析】作者所表达的是如何贯彻预防为主的卫生与健康工作方针，强调从整体出发，全面提高，二不仅仅局限于法制或物资问题，也不仅仅只是找到问题揭示短板，而是为了解决问题，故选 A。

50. 民法典是我国法律体系中条文最多、体量最大、编章结构最复杂的一部法律。民法典要

实施好，就必须让民法典走到群众身边、走进群众心里。要广泛开展民法典普法工作，将其作为“十四五”时期普法工作的重点来抓，引导群众认识到民法典既是保护自身权益的法典，也是全体社会成员都必须遵循的规范，养成自觉守法的意识，形成遇事找法的习惯，培养解决问题靠法的意识和能力。要把民法典纳入国民教育体系，加强对青少年的民法典教育。最适合做这段文字标题的是（ ）。

- A. 民法典普法教育亟需加强
- B. 法律意识人人有
- C. 民法典实施再深入
- D. 民法典“进”校园

【答案】A

【解析】一段文字的标题一般代表的文字的核心，题干主旨在于民法典要实施好，就必须让民法典走到群众身边、走进群众心里。强调实施好的关键在于教育，后文都是对如何开展教育展开论述，C只谈及执行未涉及本文核心词汇教育，故不选，答案选A。

（四）数字推理共 10 题

每道题给出一个数列，但其中缺少一项，要求你仔细观察这个数列中数字之间的关系，找出其中的规律，然后从 4 个备选项中选出最合理的 1 项来填补空缺。

51. 10、11、13、16、20、（ ）。

- A. 25
- B. 26
- C. 27
- D. 28

【答案】A

【解析】多级做差数列，相邻两项之间做差得 1、2、3、4、（5），公差为 1 的等差数列，结果为 $20+5=25$ ，选择 A 选项。

52. 155、123、107、99、95、（ ）。

- A. 91
- B. 92
- C. 93
- D. 94

【答案】C

【解析】多级做差数列，相邻两项之间做差得 32、16、8、4、（2），公比为 2 的等比数列，结果为 $95-2=93$ ，选择 C 选项。

53. 3、1、8、8、17、19、()。

- A. 26
- B. 28
- C. 30
- D. 32

【答案】C

【解析】多级做和数列，相邻两项之间加和得 4、9、16、25、36、(49)，分别为 2、3、4、5、6、7 的平方数，结果为 $49-19=30$ ，选择 C 选项。

54. 3、5、7、3、9、5、20、()。

- A. 15, 75
- B. 4, 16
- C. 2, 12
- D. 6, 18

【答案】A

【解析】多重数列，两两分组，组内两数相除得 2、3、4、(5)、6，公差为 1 的等差数列，只有 $75 \div 15 = 5$ ，选择 A 选项。

55. 2、6、12、20、30、()。

- A. 42
- B. 45
- C. 47
- D. 49

【答案】A

【解析】多级做差数列，相邻两项之间做差得 4、6、8、10、(12)，公差为 2 的等差数列，结果为 $30+12=42$ ，选择 A 选项。

56. 1、1、2、8、64、()。

- A. 1024
- B. 960
- C. 720
- D. 360

【答案】A

【解析】多级做商数列，相邻两项之间相除得 1、2、4、8、(16)，公比为 2 的等比数列，结果为 $64 \times 16 = 1024$ ，选择 A 选项。

57. 6、7、15、13、22、28、35、50、()。

- A. 56
- B. 63
- C. 78
- D. 89

【答案】B

【解析】特殊递推数列，第一项加第二项得第四项，结果为 $28+35=63$ ，选项 B 选项。

58. 2、9、16、23、30、（）。

- A. 32
- B. 37
- C. 41
- D. 46

【答案】B

【解析】公差为 7 的等差数列，结果为 $30+7=37$ ，选项 B 选项。

59. 0、5、15、35、75、（）。

- A. 125
- B. 135
- C. 145
- D. 155

【答案】D

【解析】多级做差数列，相邻两项之间做差得 5、10、20、40、（80），公比为 2 的等比数列，结果为 $75+80=155$ ，选择 D 选项。

60. 1、2、2、4、8、（）。

- A. 8
- B. 10
- C. 12
- D. 32

【答案】D

【解析】递推数列，第一项乘以第二项得第三项，结果为 $4 \times 8=32$ ，选择 D 选项。

（五）数学运算共 10 题

61. 某部门有 4 名男性员工：2 名女性员工，因工作分工，安排 6 名员工平均分为 3 组，

且 2 名女性员工不在同组的分组方法共有 () 种。

- A. 3
- B. 6
- C. 9
- D. 12

【答案】D

【解析】排列组合问题，先安排 2 名女性员工在不同两组（此时不需要计算情况数，题干只是说分组，并无明确分为一、二、三组），之后从 4 名男性中选 1 名与第一名女性为一组，再从剩下 3 名男性中选 1 名与第二名女性为一组，最后剩下 2 名男性自己组成一组，即

$C_4^1 \times C_3^1 = 4 \times 3 = 12$ (种)，选择 D 选项。

62. 某商场正在举行促销活动。顾客消费金额达到一定数量后。可以在 5 种不同的赠品中随机选取 2 种。那么，任意两位顾客在选取赠品时，恰有 1 种赠品相同的概率是 ()。

- A. 10%
- B. 30%
- C. 40%
- D. 60%

【答案】D

【解析】D 【解析】概率问题，采用逆向思维，恰有 1 种赠品相同的概率为 1 减去 2 种赠品相同的概率与没有赠品相同的概率和，即 $1 - \frac{1}{C_5^2} - \frac{C_3^2}{C_5^2} = 1 - \frac{1}{10} - \frac{3}{10} = 60\%$ ，选择 D 选项。

63. 某部门共有小郑。小卢。小潘 3 名工作人员。部门中的一类工作文件要 2 人签字确认后才能存档。上周整理这类文件时发现，其中有 14 份文件小郑未签字，有 15 份文件小卢未签字，有 17 份文件小潘未签字，那么上周小郑签字的这类工作文件数量是 ()。—题目有误

- A. 6
- B. 8
- C. 9
- D. 10

【答案】题目有误

【解析】略

64. 用甲、乙、丙三杯不同浓度的盐水调制成浓度为 20% 的盐水，已知甲乙丙杯盐水的质量比例为 1:2:1，丙杯盐水浓度为 40%，乙杯盐水浓度是甲杯的一半，则甲杯盐水的浓度是 ()。

- A. 10%

B. 15%

C. 20%

D. 25%

【答案】C

【解析】溶液问题，采用赋值法，赋甲、乙、丙杯盐水的质量分别为 1、2、1，采用方程法，设乙杯盐水溶度为 x ，根据题意列方程为 $1 \times 2x + 2 \times x + 1 \times 40\% = (1 + 2 + 1) \times 20\%$ ，解得 $x=10\%$ ，选择 A 选项。

65. A 公司第季度营业收入比 B 公司低 20%。第二季度营业收入比第一季度增长了 5%；B 公司第二季度营业收入比第一季度减少了 10%。那么 A、B 两家公司第二季度营业收入之比是（）。

A. 10:11

B. 14:15

C. 35:36

D. 17:18

【答案】B

【解析】采用赋值法，赋第一季度 A 公司营业收入为 80，B 公司营业收入为 100，则第二季度 A 公司营业收入为 $80 \times (1+5\%)=84$ ，B 公司营业收入为 $100 \times (1-10\%)=90$ ，则 A、B 两家公司第二季度营业收入之比为 $84:90=14:15$ ，选择 B 选项。

66. 某工厂甲乙两个车间共同生产 240 台实验仪器。甲车间每天生产 12 台。乙车间每天比甲车间多生产 8 台。如果先由甲车间生产 10 天。剩下的由乙车间单独完成。则乙车间完成全部任务还需（）天。

A. 2

B. 4

C. 5

D. 6

【答案】D

51. 【解析】工程问题，采用方程法，设乙车间完成全部任务还需 x 天，根据题意列方程 $12 \times 10 + (12 + 8) \times x = 240$ ，解得 $x=6$ （天），选择 D 选项。

67. 某水果店批发了若干个哈密瓜。第一天卖出总数的一半。第二天卖出余下的一半后。还剩 6 个。则该水果店共批发了（）个哈密瓜。

A. 42

B. 36

C. 30

D. 24

【答案】D

【解析】简单计算题， $6 \times 2 \times 2 = 24$ （个），选择 D 选项。

68 某度假村计划修建座泡成为正方形的水池。如果水池底每平方米的造价为 280 元，池壁每平方米的造价为 250 元，在不考虑其地成本的情况下。要建一个深 1.8 米、容积为 45 平方米的水池要花费（ ）元。

A. 15400

B. 15800

C. 16000

D. 17200

【答案】C

【解析】几何问题，水池底面积为 $45 \div 1.8 = 25$ （平方米），则底面边长为 5 米，则总花费金额为 $25 \times 280 + 5 \times 1.8 \times 4 \times 250 = 16000$ （元），选择 C 选项。

69 已知某年的 4 月有 5 个星期二和 4 个星期三。那么可以推出。当年的劳动节是（ ）。

A. 星期三

B. 星期四

C. 星期五

D. 星期六

【答案】A

【解析】星期日期问题，4 月一共 30 天，则有 4 周加另 2 天，4 周内有 4 个周二和周三，题干中已知有 5 个周二和 4 个周三，则说明剩下 2 天中含周二且不含周三，这 2 天一定为周一、周二，5 月 1 日为周三，选择 A 选项。

70 某中学计划在操场开展心理健康知识宣讲，刚开始在操场上摆放的若干座位成正方形方阵，后因部分学生临时无法参加，于是侧下了三行三列的座位，最终减少了 81 个座位，则最开始摆放了（ ）个座位。

A. 225

B. 196

C. 169

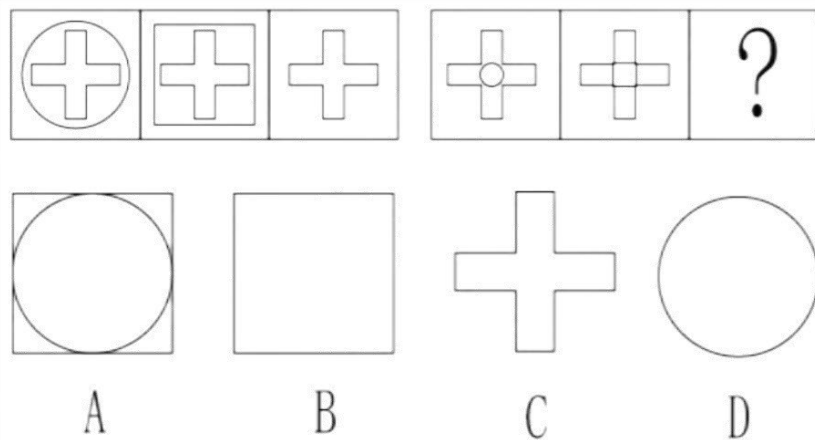
D. 144

【答案】A

【解析】采用代入排除法，225 为 15 的平方， $225 - 81 = 144$ ，144 为 12 的平方，满足题意，选择 A 选项。

(六) 图形推理题共 5 题

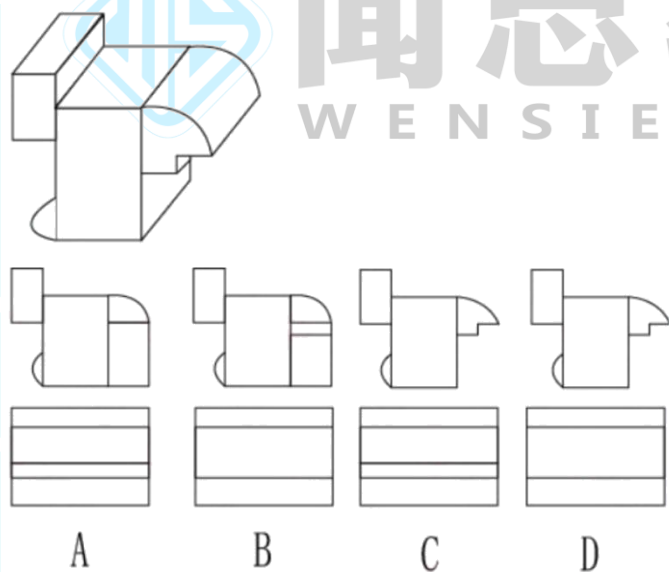
71. 下列选项中最符合所给图形规律的是 ()。



【答案】C

【解析】考点——样式类——求同。第一组由前两幅图求同变成第三幅图，第二组也应该是类似的规律，只有 C 选项符合要求。故此选 C 选项。

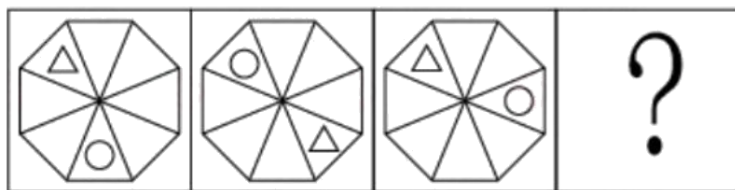
72. 如图所示，所给立体图形的正视图和右视图是 ()。



【答案】C

【解析】考点——空间重构——三视图。正视图可以得知，总共有四个面，故此排除 AB，右视图是从右边看往左边，总共有四个面。故此选择 C 选项。

73. 下列选项中最符合所给图形规律的是 ()。



A



B



C

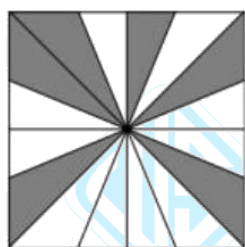


D

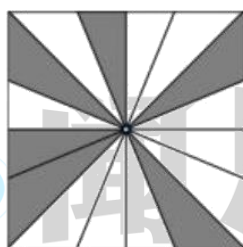
【答案】B

【解析】考点——位置类——旋转。三角形每次顺时针旋转 4 格，圆形每次顺时针旋转 3 格。故此选择 B 选项。

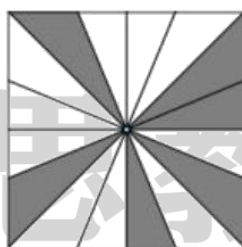
74. 下列选项中，与其他三个选项不同的是（ ）。



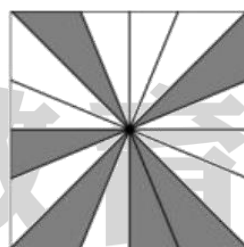
A



B



C




D

【答案】A

【解析】考法 1——数量类——素，A 有 5 个钝角三角形，1 个直角三角形。BCD 都有 4 个钝角三角形，2 个直角三角形，故此选项 A 与其他选项不同。考法 2——位置类——旋转。选项 BCD 可以通过旋转之后重叠，可使用时针法辅助一下，选项 A 无法与他们旋转后重叠。故此选择 A 选项。

75. 下列选项中最符合所给图形规律的是（ ）。



【答案】A

【解析】考点——属性类——对称。两段式考法，第一组三幅图即是轴对称，又是中心对称，第二组前两幅图也是一样的规律，故此最后应该选择即是轴对称，又是中心对称的图形，只有A满足。故此选择A选项。

（七）类比推理共5题

每道题给出一组相关的词或一个表述，要求你仔细观察，从4个备选项中找出与题干在逻辑关系上最为相似或贴近的1项

76. 仁：义（ ）。

- A. 春：夏
- B. 恭：让
- C. 明：暗
- D. 淡：浓

【答案】A

【解析】考点——并列关系——反对关系。仁义礼智信，汉语词汇，是儒家提倡做人的起码道德准则，出自《孟子·告子上》，为历代儒客推崇。仁义礼智信为儒家“五常”，孔子提出“仁、义、礼”，孟子延伸为“仁、义、礼、智”，董仲舒扩充为“仁、义、礼、智、信”，后称“五常”。故此仁与义为反对关系。

选项A，春与夏为反对关系，保留选项；

选项B，先秦·孔子《论语·学而》：“夫子温良恭俭让以得之。”温良恭俭让“意思是温和、善良、恭敬、节俭、谦逊这五种美德。故此B选项恭与让也为反对关系，保留选项；

选项C与D都为反义，不符合题干要求。

辨析 A 与 B 选项，仁：义与恭：让都属于道德层面的内容。故此选择 B 选项较为合适。

77. 汽车驾驶（ ）。

- A. 聆听：音乐
- B. 喝茶：饮水
- C. 啤酒：聚会
- D. 戏剧：观赏

【答案】D

【解析】考点——语法——结构。驾驶汽车为动宾关系。选项 A，聆听音乐也为动宾，但是位置相反；选项 B 喝茶喝水是并且关系；选项 C 聚会时喝啤酒，属于对应关系；选项 D，观赏戏剧属于动宾关系，符合要求。故此选择 D 选项。

78. 沟通：书面（ ）。

- A. 出行：走路
- B. 轮船：飞机
- C. 做饭：烹饪
- D. 通讯：信号

【答案】A

【解析】考点——包含——种属。书面是一种沟通方式。选项 A，走路是一种出行方式，符合要求；选项 B，飞机跟轮船都是交通工具，属于并列关系；选项 C，做饭与烹饪为全同关系；选项 D，通讯需要信号，两者属于对应关系。故此选择 A 选项。

79. 面粉：馒头：蒸锅（ ）。

- A. 颜料：纸张：画笔
- B. 棉花：布：织布机
- C. 铁：菜刀：刀刃
- D. 高粱：酒精：发酵

【答案】B

【解析】考点——对应关系——原材料及工具。面粉是制作馒头的原材料，蒸锅是制作馒头的工具。选项 A，颜料、纸张画笔都是画画的材料与工具，三者属于配套关系；选项 B，棉花是制作布的原材料，织布机是制作布的工具，符合要求；选项 C，铁是菜刀的原材料，菜刀有刀刃，属于对应关系，与题干不一样；选项 D，高粱是制作酒精的原材料，但是发酵是制作酒精的工艺，非工具，不符合要求。故此选择 B 选项。

80. 字典：汉字（ ）。

- A. 鼠标:键盘
- B. 手机:聊天
- c. 乐谱:音符
- D. 写字:阅读

【答案】C

【解析】考点——包容关系——组成。汉字是字典的基本组成。选项 A 鼠标与键盘是配套关系。选项 B，聊天是手机的功能；选项 C，音符是乐谱的基本组成；选项 D，写字与阅读无明显逻辑关系。

（八）逻辑判断共 10 题

每道题给出一段陈述。这段陈述被假设是正确的。要求你仅根据这段陈述直接推理，从 4 个备选项中选出最合理的 1 项。

81. 某单位计划选派若干人员参加竞史知识竞赛。经过两轮选拔后。读单位计划从小陈，小姜，小曾、小打 4 人送出参赛人员。4 人对参赛人员进行了猜测。小陈说：“我不会入选。”小姜说：“如果我入选，则小曾会入选。”小曾说：“除非小丁入选，否则小姜不入选。”小丁说：“小姜会入选但小曾不会入法。”
如果 4 人中只有 1 人猜对了，则下列判断中必然为真的是（ ）。
WEN SI EDUCATION . CN

- A. 小陈。小姜会入选
- B. 小陈、小丁会入选
- C. 小姜、小曾会入选
- D. 小姜、小丁会入选

【答案】A

【解析】考点——真假推理——矛盾关系。先进行翻译，（1）-陈；（2）姜→曾；（3）姜→丁；（4）姜且-曾。有提问可知，4 人中只有 1 人猜对，并且（2）与（4）之间为矛盾关系，必然有一真一假，则说明（1）与（3）都是假命题，可以得知（1）与（3）的矛盾命题为真命题，即小陈入选，小姜入选且小丁没入选两个命题为真。故此选择 A 选项。

82. 为了让老年人享受到更加便捷，优质的养老服务，某地政府大力推广“住在家中，服务在社区的养老模式。然而，与预想不样这一模式并没有得到广大居民的积极响应。
下列最不能解释上述现象的是（ ）。

- A. 该地历来就有敬老爱老的传统
- B. 该养老模式的宣传推广不到位
- C. 社区养老服务价格高昂

D. 社区养老服务存在低质化倾向

【答案】A

【解析】考点——原因解释。先找出矛盾点：(1) 某地政府大力推广“住在家中，服务在社区”的养老模式；(2) 这一模式并没有得到广大居民的积极响应。选项 A，该地历来就有敬老爱老的传统，未能够解释道为什么大家没有积极响应；选项 B，该养老模式的宣传推广不到位，说明有可能很多人不知道这一模式，一定程度能够解释；选项 C，社区养老服务价格高昂，说明老年人不愿因参与；选项 D，社区养老服务存在低质化倾向，也一定程度能够解释。故此选择 A 选项。

83. 甲、乙丙三人都是运动员，其运动项目是乒乓球、游泳、举重中的一种，已知：(1) 甲不会游泳 (2) 游泳运动员得过两块金牌 (3) 丙不是举重运动员，且从未拿过第根据以上表述，下列说法正确的是 ()。

A. 甲是游泳运动员，乙是举重运动员，丙是乒乓球运动员

B. 甲是乒乓球运动员，

乙是举重运动员，丙是游泳运动员

C. 甲是举重运动员，乙是乒乓球运动员，丙是游泳运动员

D. 甲是举重运动员，乙是游泳运动员，丙是乒乓球运动员

【答案】D

【解析】考点——分析推理。选项结构清晰，可以考虑用排除法，由 (1) 甲不会游泳，排除 A 选项；由 (2) 游泳运动员得过两块金牌 (3) 丙不是举重运动员，且从未拿过第一，可以知道丙不是游泳运动员，排除选项 BC。故此选择 D 选项。

84. 某单位召开工作总结会议，7 位员工从左到右依次坐在 排上。其中，小张、小唐、小赵和小宋来自同个部门；小林、小贾和小康来自另一个部门，同时还满足以下条件：

(1) 所有座位朝向相同。

(2) 小张所在部门所有员工的座位都不相邻。

(3) 小赵在这排椅子的位置中紧挨着第四个员工的右边坐。

(4) 小贾坐在小赵的右边。

(5) 小张和小林相邻。

(6) 小张和小赵中间间隔了不止一人。

根据以上表述，下列选项可能为真的是 ()。

A. 小康坐在小张的左边

B. 小林坐在小张的左边

C. 小唐坐在小张的左边

D. 小宋坐在小赵的左边

【答案】D

【解析】考点——分析推理。由(3)小赵在这排椅子的位置中紧挨着第四个员工的右边坐，可以得知，小赵在第5位。由(4)小贾坐在小赵的右边，可以得知小贾在第6位；

1	2	3	4	5	6	7
				赵	贾	

由(2)小张所在部门所有员工的座位都不相邻。可以得知小张、小唐、小赵和小宋的位置是隔开的，只能是1、3、5、7，并且由(6)小张和小赵中间间隔了不止一人。可以得知，小张不能在3号位，也不能在7号位，只能在1号位。由(5)小张和小林相邻。可知，小林在2号位

1	2	3	4	5	6	7
张	林			赵	贾	

分析选项，选项ABC，都是说某个人在小张左边，已知小张在1号位，左边可能有人，故此选项ABC都错。选项D小宋坐在小赵的左边，由(2)小张所在部门所有员工的座位都不相邻。可以得知小张、小唐、小赵和小宋的位置是隔开的，只能是1、3、5、7。目前1与5都被使用了，所以小宋可以选择3与7，所以小宋坐在小赵的左边在3号位时符合要求。故此选择D选项。

85. 太阳系处于银河系中，地球是太阳系中的行星，所以地球处于银河系中。以下与上述推理在逻辑结构上最为相似的是（ ）。

- A. 某医疗小组中，所有护士都是女性，甲是男性，所以甲不是该医疗小组的护士
- B. 糖尿病人每天的糖摄入量不应超过50克，乙每天的糖摄入量控制在25克以下，所以乙是糖尿病人
- C. 期末考试成绩在90分以上的学生被记为优秀，丙的成绩是96分，所以丙被记为优秀
- D. 所有跳水运动员都会游泳，丁不会游泳，所以丁不是跳水运动员

【答案】C

【解析】考点——平行结构。分析题干，太阳系→银河系，地球是太阳系行星属于肯前，地球处于银河系属于肯后，所以题干的逻辑是肯前推肯后。

选项A，护士→女性，甲是男性属于否后，甲不是护士属于否前，选项A的逻辑是否后推否前，结构未完全一致。

选项B，病人→≤50，乙控制在25以下属于肯后，乙是病人属于肯前，选项B的逻辑是肯后推肯前。

选项C，90分以上→优秀，丙的成绩是96分属于肯前，丙被记为优秀属于肯后，选项C的逻辑是肯前推肯后，符合要求。

选项D，跳水运动员→游泳，丁不会游泳属于否后，丁不是跳水运动员属于否前，选项D的逻辑是否后推否前，结构未完全一致。

86. 某公司新推出一款耳机，其降低噪音的效果比市面上所有同类产品都要好。因此，该公司管理者认为，这款耳机的销量会远远超过市面上所有其它同类产品的销量。

以下选项如果为真，最能质疑该公司管理者判断的是（ ）。

- A. 这款耳机的耗电量高于其它同类产品
- B. 降低噪音功能并不是大部分消费者在选购耳机时的主要关注点
- C. 这款耳机的价格略高于其它同类产品
- D. 答案缺失

【答案】B

【解析】考点——论证——削弱论证。先找出论点论据，论点：这款耳机的销量会远远超过市面上所有其它同类产品的销量；论据：降低噪音的效果比市面上所有同类产品都要好。分析选项，选项 B，降低噪音功能并不是大部分消费者在选购耳机时的主要关注点，属于弱化联系，拆桥项目；选项 ACD，都是存在可能性的论据层面削弱，不如 B 选项。故此选择 B 选项。

87. 某企业举办青年职工职业技能大赛，对参赛者的要求是年龄在 40 周岁以下。结果发现，有些参赛职工不会说英语。根据以上信息，下列选项必然为真的是（ ）。

- A. 有些 40 周岁以下的职工会说英语
- B. 有些 40 周岁以下的职工不会说英语
- C. 有些会说英语的人年龄超过了 40 周岁
- D. 有些会说英语的人不参赛

【答案】B

【解析】考点——翻译推理——集合推理。先翻译（1）参赛者→40 周岁以下；（2）有些参赛者→不会说英语。分析选项，选项 ABC 都是讲 40 周岁与英语的关系，需要（1）（2）连锁起来。由（2）有些参赛者→不会说英语换位可以得到（3）有些不会说英语→参赛者。结合（3）（1）有些不会说英语→参赛者，参赛者→40 周岁以下，可以得到，（4）有些不会说英语→40 周岁以下，再进行换位得到（5）有些 40 周岁以下→不会说英语，B 选项正确。选项 D 有些参赛者→不会说英语，无法得到有些会说英语的人不参赛，这是一个可能结果。故此选择 B 选项。

88. 维生素 C 具有抗病毒的作用，因此有专家团队进行了大剂量维生素 C 治疗某种流感的临床试验。对此，有人认为，大量的服用维生素 C 可以预防该流感，因此，在该流感高发期，药店和电商平台上的维生素 C 一度脱销。

以下选项如果为真，最能质疑上述观点的是（ ）。

- A. 维生素 C 即使不能治疗这种流感，也能增强人体免疫力

- B. 临床试验用的维生素 C 试剂与市面上购买的维生素 C 不同
- C. 食物中的维生素 C 来源丰富，食用新鲜的水果和蔬菜，即可满足一天的需要
- D. 临床试验中用来治疗这种流感患者的维生素 C，对普通人预防感染并不一定有效

【答案】B

【解析】考点——论证——削弱论证。先找出论点论据，论点：有人认为，大量的服用维生素 C 可以预防该流感，因此，在该流感高发期，药店和电商平台上的维生素 C 一度脱销。论据：维生素 C 具有抗病毒的作用，因此有专家团队进行了大剂量维生素 C 治疗某种流感的临床试验。选项 A，属于无关选项；选项 B，实验用的维生素 C 与市面上的不同，也就是两者不存在练习，拆桥；选项 C，无关，未提到市面上的情况；选项 D，普通人预防感染不一定有效，未能够有效得知市面上会不会脱销，模糊选项，排除。故此选择 B 选项。

89. 为激发员工的工作积极性、主动性，某企业人力资源部门计划定期发放各种福利，包括超市代金券、生活日用品等，但是一段时间后，发现该企业员工的工作积极性和主动性并没有明显的提升。

以下选项最能解释这一现象的是（ ）。

- A. 该企业每季度发放一次福利
- B. 近期该企业所在的行业整体不景气
- C. 该企业向所有的员工都发放了福利
- D. 有员工反映该企业发放的日用品质量不好

【答案】D

【解析】考点——原因解释。先找出矛盾点：（1）为激发员工的工作积极性、主动性，某企业人力资源部门计划定期发放各种福利，包括超市代金券、生活日用品等；（2）该企业员工的工作积极性和主动性并没有明显的提升。选项 A，每季度发放一次福利无法得知为什么该企业员工工作积极性和主动性并没有明显的提升；选项 B，近期该企业所在的行业整体不景气，只能说明员工可能不开心，但是无法有效解释在发福利后该企业员工的工作积极性和主动性并没有明显的提升；选项 C，该企业向所有的员工都发放了福利，合理应该大家的工作积极性和主动性要有提升才行，所以解释不了为什么无法明显提升。（注：很多同学认为可以是觉得大家都发了，所以就没有激励性，大家都觉得是应该的，但是题干并没有说都发就没有激励作用，或者仅仅发一部分人才有激励作用，所以选择 C 大多是有脑补了一些信息，虽然从现实来说，全部都发的激励效果会比较差。）选项 D，有员工反映该企业发放的日用品质量不好，说明员工可能不满意，无法产生正面效果，所以该企业员工的工作积极性和主动性并没有明显的提升。故此选择 D 选项。

90. 有研究表明，当人们查看完手机再放下之后，肾上腺会分泌皮质醇、少量皮质醇对人体有益，但随着皮质醇升高，人们会变得愈加焦虑，因此，为了缓解焦虑情绪，人们一定会

不由自主地想要查看手机，这就解释了现在人们普遍存在的“无手机恐惧症”。

以下最能总结上述论断缺陷的是（ ）。

- A. 假设了查看手机是人们缓解焦虑的唯一方法
- B. 忽视了“无手机恐惧症”的其他影响因素
- C. 暗含了现在的人们手机使用频率相当高
- D. 忽视了人们使用手机处理工作的具体情况

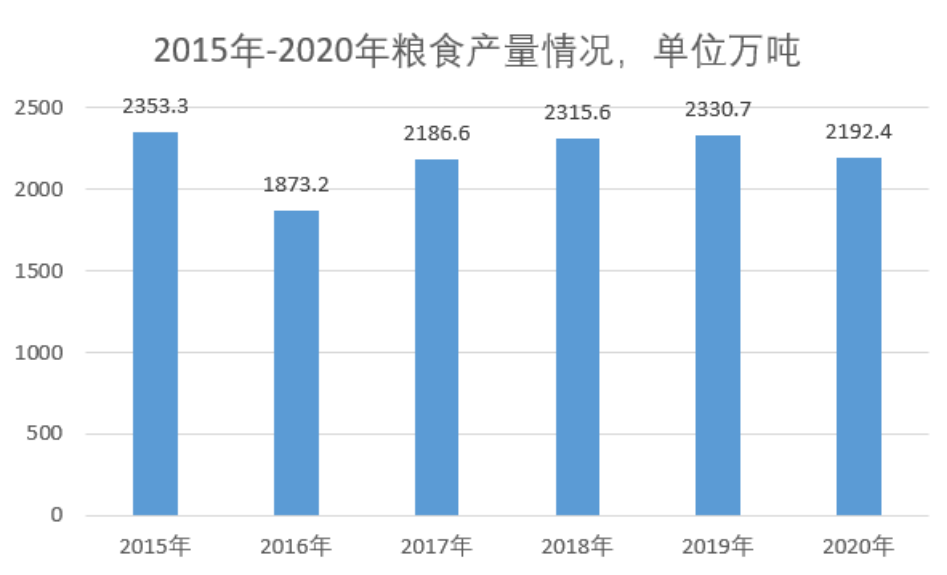
【答案】A

【解析】考点——论证——论证缺陷。先找论据论点，论点：为了缓解焦虑情绪，人们一定会不由自主地想要查看手机，这就解释了现在人们普遍存在的“无手机恐惧症”；论据：当人们查看完手机再放下之后，肾上腺会分泌皮质醇、少量皮质醇对人体有益，但随着皮质醇升高，人们会变得愈加焦虑。选项 A，假设了查看手机是人们缓解焦虑的唯一方法，属于默认前提成立，若查看手机并不是人们缓解焦虑的唯一方法，则为了缓解焦虑情绪，人们一定会不由自主地想要查看手机无法成立，属于前提类的缺陷；选项 B，忽视了“无手机恐惧症”的其他影响因素，属于忽略了其他可能的影响因素，也属于缺陷，但是力度不如 A；选项 CD 都属于无关选项，故此选择 A 选项。

（九）资料分析共 10 题

根据材料回答 91-95 题

据统计，2020 年 L 省全年粮食总量 2192.4 万吨，同比下降 5.3%。……增长 10.4 吨；油料产量 78.13 万吨，下降 4.09%；蔬菜产量 1852.3……增长 3.03%；烟叶产量 1.77 万吨，下降 32.4，L 省全年水产品产量 450.7…同比下降 6.11%，其中，海洋捕捞 80.6 万吨，下降百分之 3.7%，海水养殖 286.3 下降 7.08%。淡水捕捞 3.9 万吨，下降 15.22%；淡水养殖 79.9 万吨。



91. 2020 年，L 省蔬菜产量比油料产量高约（ ）万吨。

- A. 1800
- B. 1840
- C. 1900
- D. 2100

【答案】A

【解析】简单计算， $1852.3-78.13=1774.17$ （万吨），与 A 最接近，建议选择 A 选项。

92. 2016-2020 年，L 省年均粮食产量约（ ）万吨。

- A. 1980
- B. 2080
- C. 2180
- D. 2280

【答案】C

【解析】平均数计算， $\frac{1873.2+2186.6+2315.6+2330.7+2192.4}{5}=2179.7$ （万吨），选择 C 选项。

93. 2019 年，L 省海水养殖产业产量占全年水产品产量的比重为（ ）。

- A. 54%
- B. 60%
- C. 64%
- D. 70%

【答案】C

【解析】基期比重计算， $\frac{286.3}{450.7} \times \frac{1-6.11\%}{1-7.08\%} \approx 64.19\%$ ，选择 C 选项。

94. 2017-2020 年，L 省粮食年产量增速最快的一年是（ ）年。

- A. 2017
- B. 2018
- C. 2019
- D. 2020

【答案】A

【解析】增长率比较，根据图表数据可直接判断 2017 年同比增速最快，选择 A 选项。

95. 根据上述资料，下列选项正确的是（ ）。-材料缺少

- A. 2015-2020 年，L 省粮食产量最高的年份是 2019 年
- B. 2019 年，L 省全年淡水产品产量超过 100 万吨
- C. 2020 年，L 省蔬菜及油料产量合计约 90 万吨
- D. 2016-2020 年，L 省粮食产量同比下降的年份有 3 个

【答案】材料缺少

【解析】略

根据一下资料，回答 96-100 题

2020 年，对全托 6 万家规模以上文化及相关产业企业调查结果显示，全年上述企业实现营业收入 98514 亿元，比上年增长 2.2%，其中，前三季度实现营业收入 66119 亿元，同比下降 0.6%，分领域看，文化核心领域营业收入 60295 亿元，比上年增长 3.8%，增速较前三季度提高 2.3 个百分点，文化相关领域 38220 亿元，下降 0.1%，降幅收窄 3.7 个百分点。

2020年全国规模以上文化及相关产业企业营业收入情况

	绝对额 (亿元)	比上年增长(%)		所占比重 (%)
		全年	前三季度	
总 计	98514	2.2	-0.6	100.0
按行业类别分				
新闻信息服务	9382	18.0	17.0	9.5
内容创作生产	23275	4.7	4.1	23.6
创意设计服务	15645	11.1	9.0	15.9
文化传播渠道	10428	-11.8	-16.5	10.6
文化投资运营	451	2.8	0.2	0.5
文化娱乐休闲服务	1115	-30.2	-39.9	1.1
文化辅助生产和中介服务	13519	-6.9	-9.5	13.7
文化装备生产	5893	1.1	-3.4	6.0
文化消费终端生产	18808	5.1	0.8	19.1
按产业类型分				
文化制造业	37378	-0.9	-3.8	37.9
文化批发和零售业	15173	-4.5	-10.0	15.4
文化服务业	45964	7.5	6.0	46.7
按领域分				
文化核心领域	60295	3.8	1.5	61.2
文化相关领域	38220	-0.1	-3.8	38.8
按区域分				
东部地区	73943	2.3	-0.4	75.1
中部地区	14656	1.4	-1.5	14.9
西部地区	9044	4.1	0.9	9.2
东北地区	872	-8.6	-15.9	0.9

注:

1.表中速度均为未扣除价格因素的名义增速。

2.表中部分数据因四舍五入,存在总计与分项合计不等的情况。

(1) 部分数据存在四舍五入情况, (2) “文化辅助生产和中介服务”、“文化消费终端生产”为文化相关领域行业, 其余为文化核心领域。

96. 2020 年第四季度, 全国规模以上文化及相关产业企业营业收入比 2019 年第四季度增加约 () 亿元。

- A. 2500
- B. 3500
- C. 4500
- D. 5500

【答案】A

【解析】增长量计算, $\frac{98514}{1+2.2\%} \times 2.2\% - \frac{66119}{1-0.6\%} \times (-0.6\%) \approx 2520$ (亿元), 选择 A 选项。

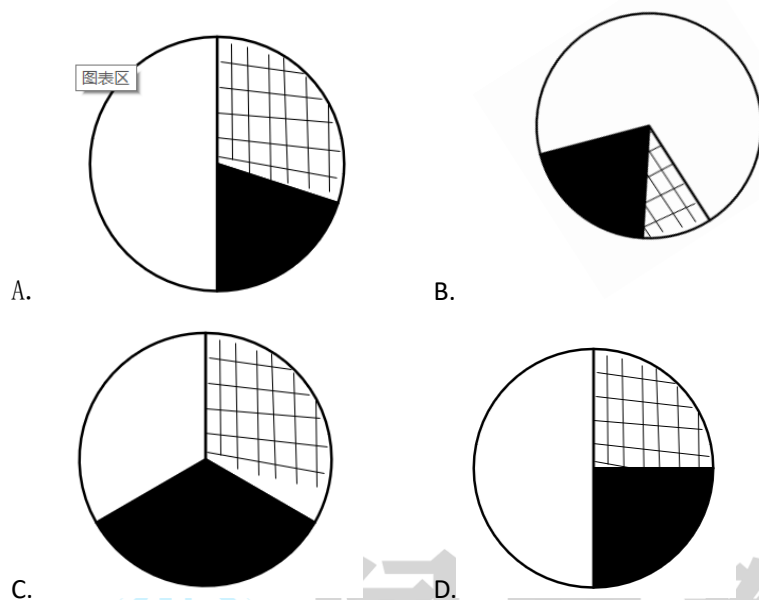
97. 2020 年, 文化及相关产业营业收入同比上升的企业, 营业收入占全国总营业收入的比重是 ()。-题目有误

- A. 不到 60%
- B. 在 60%-70%
- C. 在 70%-80%
- D. 超过 80%

【答案】题目有误

【解析】略

98. 下列选项最能反映 2020 年文化辅助生产和中介服务、文化装备生产和文化消费终端生产营业收入占文化相关领域行业营业收入比重关系的是 ()。



【答案】A

【解析】简单计算，三者之比为 13.7:6.0:19.1 近似为 2:1:3，与图形 A 最接近，选择 A 选项。

99. 全国东部、中部、西部和东北 4 个地区中，2020 年第四季度规模以上文化企业营业收入超过本地区当年季度营业收入平均值的地区有 () 个。-题目有误

- A. 1
- B. 2
- C. 3
- D. 4

【答案】题目有误

【解析】略

100. 关于全国规模以上文化及相关产业企业营业收入，能够从上述资料中推出的是 ()。

- A. 2020 年，内容创作生产行业收入占总收入的 25% 以上
- B. 2020 年第四季度，东部地区收入占全国总收入的 90% 以上
- C. 2020 年收入最低的两个行业，其平均收入低于 600 亿元
- D. 2020 年前三季度，收入同比增长的行业数量超过行业总数的一半

【答案】D

【解析】综合分析，A 选项比重计算， $23275 \div 98514 < 25\%$ ，错误；B 选项比重计算，无法根据材料推出；C 选项平均数计算， $(451+1115) \div 2 > 600$ ，错误；D 选项简单读图，正确。

